

Ime in priimek:

Število točk: **45**



Reka Soča je ena najlepših slovenskih rek. Zaradi prav posebne modrozelenne barve pa je dobila še eno ime.

V razpredelnico vpiši predhodnike in naslednike števil. Nato med vsemi nasledniki poišči **NAJVEČJE ŠTEVILO**. Pobarvaj pravokotnik s tem številom. Izvedel boš drugo ime za reko Sočo.

	predhodnik	število	naslednik
0,5	153	154	155
0,5	683	684	685
0,5	369	370	371
0,5	887	888	889
0,5	447	448	449
0,5	560	561	562
0,5	498	499	500
0,5	706	707	708
0,5	988	989	990
0,5	199	200	201
0,5	325	326	327
0,5	839	840	841

TOČKOVANJE!

- 0,5 - VSAK PRAVILEN REZULTAT = 0
- 0,5 - PRAVILNO POBARVANO = 1T
- 24 · 0,5 T + 1T = 13T



980 - Reki Soči pravijo tudi zlata reka.

990 - Reki Soči pravijo tudi smaragdna reka. (1)

1000 - Reki Soči pravijo tudi diamantna reka.



Reši račune. Pobarvaj črke nad pravilnimi rešitvami. Črke po vrsti prepisi na črto. Rešitev je ime ene izmed rib, ki živijo v reki Soči.

$$\begin{array}{r} 1) \quad 634 \\ - 223 \\ \hline 411 \end{array} \textcircled{1}$$

$$\begin{array}{r} 2) \quad 956 \\ - 237 \\ \hline 719 \end{array} \textcircled{1}$$

$$\begin{array}{r} 3) \quad \boxed{708} \\ - 354 \\ \hline 354 \end{array} \textcircled{1}$$

$$\begin{array}{r} 4) \quad 36 \\ + 253 \\ \hline 289 \end{array} \textcircled{1}$$

$$\begin{array}{r} 5) \quad 368 \\ + 381 \\ \hline 749 \end{array} \textcircled{1}$$

$$\begin{array}{r} 6) \quad 800 \\ - 499 \\ \hline 301 \end{array} \textcircled{1}$$

$$\begin{array}{r} 7) \quad \boxed{507} \\ + 342 \\ \hline 849 \end{array} \textcircled{1}$$

$$\begin{array}{r} 8) \quad 860 \\ - \boxed{326} \\ \hline 534 \end{array} \textcircled{1}$$

$$\begin{array}{r} 9) \quad 676 \\ + 148 \\ \hline 824 \end{array} \textcircled{1}$$

$$\begin{array}{r} 10) \quad 547 \\ + 328 \\ \hline 875 \end{array} \textcircled{1}$$

$$\begin{array}{r} 11) \quad 428 \\ - 377 \\ \hline 51 \end{array} \textcircled{1}$$

TOČKOVANJE:


- VSAK PRAVI REZULTAT = 1T

- GESLO = 1T

11 · 1T + 1T = 12T

M 421	S 875	F 649	O 301	A 165	L 721	Š 708	K 326
Č 614	A 749	P 507	H 151	B 547	O 411	U 336	D 624
S 51	O 229	T 719	I 608	D 865	R 289	V 824	G 401

V reki Soči živi S O Š K A P O S T R V.





3 Železniški most čez reko Sočo pri Solkanu je največji kamniti most na svetu. Reši račune. Pobarvaj polja z rezultati.

$6 \cdot 0 = \underline{0} \quad (1)$

$35 : 7 = \underline{5} \quad (1)$

$9 \cdot 2 = \underline{18} \quad (1)$

$7 \cdot 7 = \underline{49} \quad (1)$

$36 : 6 = \underline{6} \quad (1)$

$6 \cdot 9 = \underline{54} \quad (1)$

$\boxed{7} \cdot 3 = 21 \quad (1)$

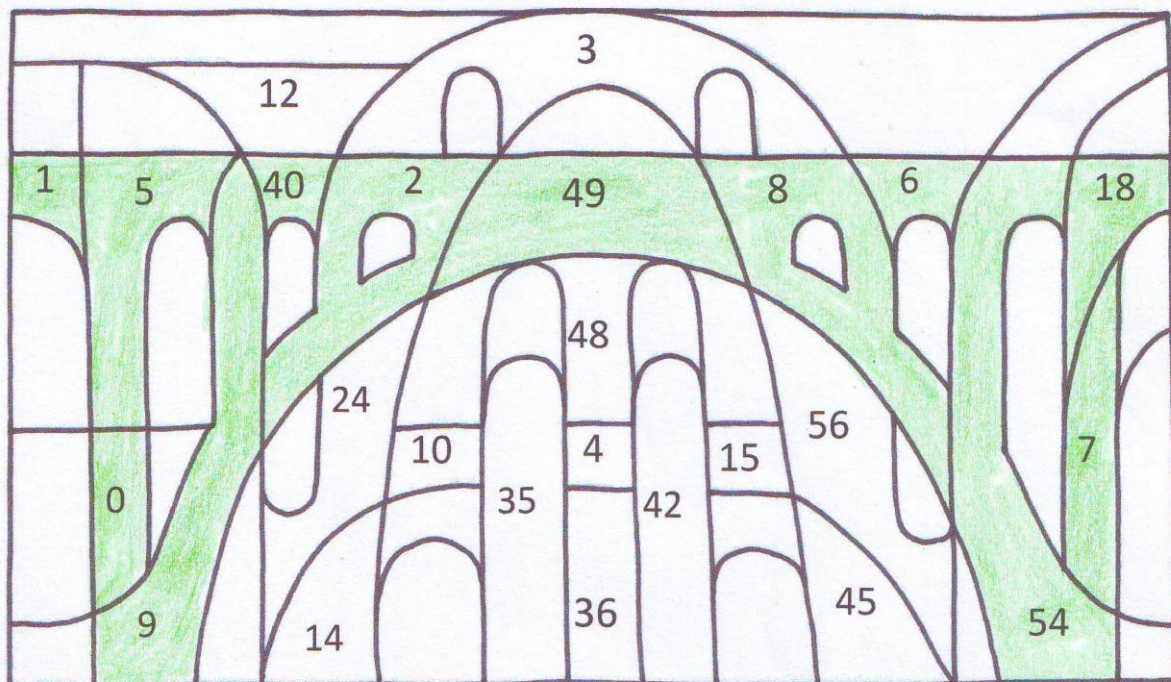
$32 : 4 = \underline{8} \quad (1)$

$8 \cdot 5 = \underline{40} \quad (1)$

$\boxed{2} \cdot 8 = 16 \quad (1)$

$10 \cdot \boxed{1} = 10 \quad (1)$

$72 : 8 = \underline{9} \quad (1)$



TOČKOVANJE:

- VSAK PRAVILEN REZULTAT = 1 T

- PRAVILNO POBARVANO = 1 T

$12 \cdot 1 T + 1 T = 13 T$



Reši naloge. Pobarvaj tiste kamne, na katerih so napisani pravilni rezultati.

TOČKOVANJE:
 - VSAKA NALOGA = 2T
 - POBARVANE REŠITVE = 1T
 $3 \cdot 2T + 1T = 7T$

- A Ribič Miha je kupil ribiško dovolilnico za lovljenje rib. Za ceno dovolilnice boš izvedel, ko boš rešil spodnjo nalogo.
 Zmnoži števili 3 in 8. Zmnožku nato odštej število 2.

Račun: $3 \cdot 8 = 24$ $24 - 2 = 22$

① ①
 VMESNI KONČNI
 REZULTAT REZULTAT



- B Ribič Anton pa je lovil ribe brez ribiške dovolilnice. Ribiški čuvaj mu je zato izdal listek s kaznijo. Anton je kazen plačal z enim bankovcem po 100 evrov in tremi bankovci po 50 evrov.
 Koliko je plačal?

Račun: $100 + 50 + 50 + 50 = 250$


① ①
 POSTOPEK REZULTAT



- C Ribiči iz ribiške družine so v reko vlagali ribje mladice. Prvi teden so jih vložili 236 kg, drugi teden 444 kg in tretji teden 312 kg.
 Koliko kilogramov ribjih mladice so vložili prvi in drugi teden skupaj?

Račun: $236 \text{ kg} + 444 \text{ kg} = 680 \text{ kg}$

① ①
 POSTOPEK REZULTAT



① PRAVILNO POBARVANO

7