


Ime in priimek:

Število točk:

40



1 Iz desetic in enic v vagončkih sestavi števila in jih po vrsti vpiši na prvo črto. Uredi jih od največjega do najmanjšega in jih zapiši na drugo črto. Števila zapisuj v smeri puščice.



15, 69, 48, 38, 27, 44, 36, 24, 68, 52 (2)

69, 68, 52, 48, 44, 38, 36, 27, 24, 15 (10)

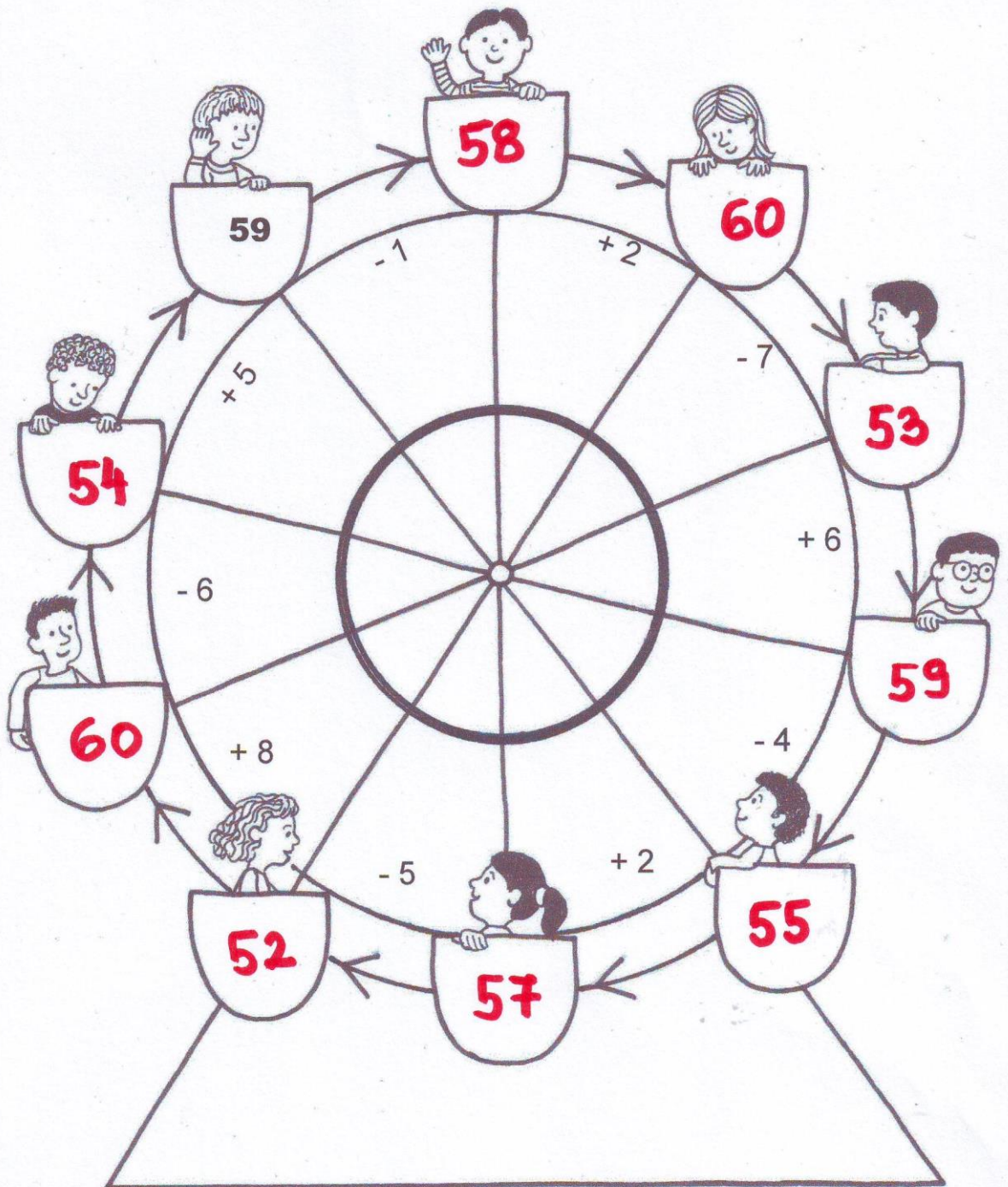
↙
že vseko pravilno urejeno št. po 1 t.

12





Prični pri že napisani številki in računaj v smeri puščic. Rezultate vpisuj na sedeže vrtiljaka.



Vsak sedež 1t = 9t



Reši račune. Pobarvaj črke v poljih s pravilnimi rezultati. Izvedel boš, kam je šla družina Novak.

POBARVANE
ČRKE = 1

$69 - \underline{2} = 67$ ①

$57 + \underline{3} = 60$ ①

$70 - \underline{8} = 62$ ①

$46 + \underline{4} = 50$ ①

$\underline{7} + 31 = 38$ ①

$62 + 7 = \underline{69}$ ①

$48 - 4 = \underline{44}$ ①

$37 - 3 = \underline{34}$ ①

$9 + 5 = \underline{14}$ ①

$56 - 4 = \underline{52}$ ①

25	52	53	1	2
S	P	O	M	A
54	14	41	3	6
I	R	N	K	L
34	43	10	8	9
Z	S	K	A	T
46	44	45	5	4
R	B	A	I	A
68	67	69	7	70
H	J	V	E	U

REŠITEV: P A R K Z A B A V E

↙ 1+





Reši naloge.

A V zabaviščni park je dopoldne prišlo 20 odraslih in 30 otrok. Popoldne je prišlo še 5 odraslih in 20 otrok. Koliko otrok je bilo v parku? Koliko odraslih je bilo v parku?

Račun: $20 + 5 = 25$ ①

Račun: $30 + 20 = 50$ ①


Otrok: 50
 Odraslih: 25 } ①



B Jan in Luka mečeta žogice v tarčo. Jan je skupno zadel 39 točk. Luka je bil slabši in je zadel le 32 točk. Koliko točk manj je imel Luka?

Račun: $32 + 7 = 39$

Luka je imel 7 točk manj.



C Klovn v parku je delil balone. Deklicam je razdelil 28 balonov, dečkom 3 manj. Koliko balonov so dobili dečki?

Račun: $28 - 3 = 25$



7