


Ime in priimek:

Število točk:



Iz desetic in enic v vagončkih sestavi števila in jih po vrsti vpiši na prvo črto. Uredi jih od največjega do najmanjšega in jih zapiši na drugo črto. Števila zapisuj v smeri puščice.





---



---



Prični pri že napisani številki in računaj v smeri puščic. Rezultate vpisuj na sedeže vrtljaka.





Reši račune. Pobarvaj črke v poljih s pravilnimi rezultati. Izvedel boš, kam je šla družina Novak.

$69 - \underline{\quad} = 67$

$57 + \underline{\quad} = 60$

$70 - \underline{\quad} = 62$

$46 + \underline{\quad} = 50$

$\underline{\quad} + 31 = 38$

$62 + 7 = \underline{\quad}$

$48 - 4 = \underline{\quad}$

$37 - 3 = \underline{\quad}$

$9 + 5 = \underline{\quad}$

$56 - 4 = \underline{\quad}$

<b>25</b>	<b>52</b>	<b>53</b>	<b>1</b>	<b>2</b>
S	P	O	M	A
<b>54</b>	<b>14</b>	<b>41</b>	<b>3</b>	<b>6</b>
I	R	N	K	L
<b>34</b>	<b>43</b>	<b>10</b>	<b>8</b>	<b>9</b>
Z	S	K	A	T
<b>46</b>	<b>44</b>	<b>45</b>	<b>5</b>	<b>4</b>
R	B	A	I	A
<b>68</b>	<b>67</b>	<b>69</b>	<b>7</b>	<b>70</b>
H	J	V	E	U

REŠITEV: \_\_\_\_\_





Reši naloge.

- A V zabaviščni park je dopoldne prišlo 20 odraslih in 30 otrok. Popoldne je prišlo še 5 odraslih in 20 otrok. Koliko otrok je bilo v parku? Koliko odraslih je bilo v parku?

Račun: \_\_\_\_\_

Račun: \_\_\_\_\_

Otrok: \_\_\_\_\_


Odraslih: \_\_\_\_\_



- B Jan in Luka mečeta žogice v tarčo. Jan je skupno zadel 39 točk. Luka je bil slabši in je zadel le 32 točk. Koliko točk manj je imel Luka?

Račun: \_\_\_\_\_

Luka je imel \_\_\_\_\_ točk manj.



- C Klovn v parku je delil balone. Deklicam je razdelil 28 balonov, dečkom 3 manj. Koliko balonov so dobili dečki?

Račun:  
\_\_\_\_\_

