

Ime in priimek:

Število točk:

55t

Spoznaj živali Triglavskega narodnega parka.

1 V vsaki vrstici prečrtaj 2 števili, ki ne sodita zraven. Prečrtana števila pobarvaj v poljih spodaj. Prikazala se ti bo žival, ki obožuje borovnice, v Sloveniji pa spada med zaščitene vrste.

40, 50, ~~54~~, 60, ~~63~~, 70, 80


16, 20, ~~22~~, 24, ~~26~~, 28, 32

15, 20, ~~23~~, 25, ~~29~~, 30, 35

~~11~~, 12, ~~13~~, 14, 16, 18, 20

3, 6, ~~7~~, 9, 12, 15, ~~17~~

25, 30, ~~33~~, 35, ~~37~~, 40, 45



VSAKO ŠTEVILO = 1t

SLIKA = 1t

13t





Reši račune. Črke pod pravilnimi rezultati po vrsti prepisi na spodnjo črto. Dobil/a boš ime živali, katere mladiči se skotijo brez vonja.

1) $\boxed{8} \cdot 3 = 24$

2) $85 - 45 = \underline{40}$

3) $\boxed{60} + 39 = 99$

4) $\boxed{9} \cdot 5 = 45$

5) $87 + 12 = \underline{99}$

6) $100 - \boxed{48} = 52$

7) $27 + \boxed{45} = 72$

8) $\boxed{80} - 15 = 65$

9) $37 + 33 = \underline{70}$

10) $44 + 17 = \underline{61}$

11) $53 + 37 = \underline{90}$

12) $12 + \boxed{46} = 58$


→ Prepisuj v tej smeri.

7	8	40	120	7	60	9	75	99	48
V	P	O	D	G	L	J	A	S	K

45	80	152	64	70	4	61	51	90	46
I	Z	N	J	A	Z	J	B	E	C

Iskana žival je

POLJSKI ZAJEC



VSAK REZULTAT = 1t

BESEDI = 1t

13t



3 Spremeni mere. Pravilne rezultate po vrsti poveži in priplezal/a boš do naše največje ujede.

1) 1 teden = 7 dni

2) 2 dm = 20 cm

3) 100 centov = 1 €

4) 3 m = 30 dm

5) 48 ur = 2 dni

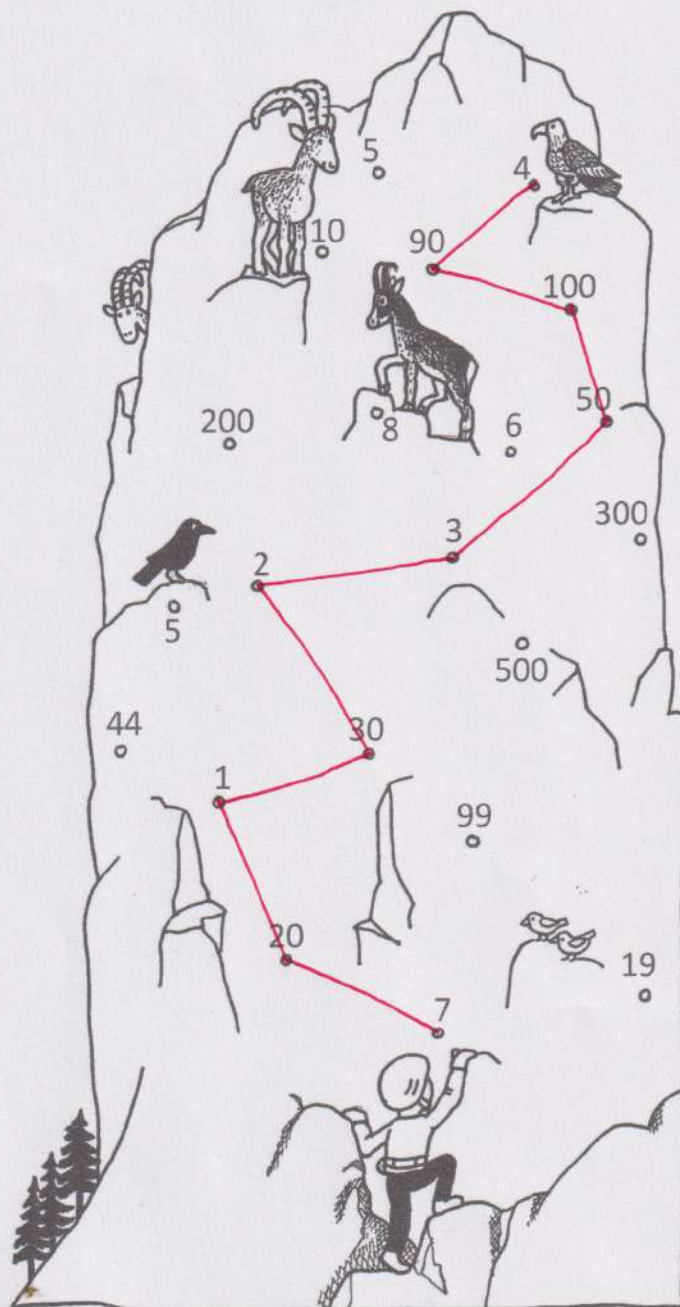
6) 21 dni = 3 tednov

7) 5 dm = 50 cm

8) 1 € = 100 centov

9) 9 m = 90 dm

10) 40 cm = 4 dm



VSAK REZULTAT = 1t

SLIKA = 1t

11t




Evrazijski ris ima na vsaki taci 4 prste. Koliko prstov imajo 3 evrazijski risi skupaj?

A
4t

Račun: $4 \cdot 4 = 16$ $16 + 16 + 16 = 48$

Odgovor: TRIJE RISI IMAJO SKUPAJ 48 PRSTOV.




B
8t

Ribiči so ujeli 8 soških postrvi; tehtale so 12 kg, 25 kg, 22 kg, 18 kg, 9 kg, 15 kg, 23 kg in 19 kg.

Koliko so tehtale najtežje tri postrvi skupaj?

Račun: $22 \text{ kg} + 23 \text{ kg} + 25 \text{ kg} = 70 \text{ kg}$




Odgovor: NAJTEŽJE TRI POSTRVI SKUPAJ TEHTAJO 70 kg.

C
3t

Samica ruševca je valila jajca 26 dni; ali je to več, manj ali enako 3 tednom? Zakaj?

Odgovor: TO JE VEČ KOT TRI TEDNE, 1t
KER 3 TEDNI TRAJAJO 21 DNI. 2t



Č
3t

V skritih brlogih so se skotili volčji mladiči. Prva volkulja je skotila 8 mladičev, druga pa 3 mladiče manj. Tretja volkulja je skotila 1 mladiča manj kot druga.

Koliko mladičev imata druga in tretja volkulja skupaj?

Račun: $8 - 3 = 5$ $5 - 1 = 4$ $5 + 4 = 9$

Odgovor: DRUGA IN TRETJA VOLKULJA IMA TA SKUPAJ 9 MLADIČEV.

