

Ime in priimek:

Število točk:



Reši račune. Pobarvaj črke pod pravilnimi rezultati in jih po vrsti prepisi na črto.

Dobil boš sesalca, ki ima najdaljši jezik na svetu.

$$\begin{array}{r} 234 \\ + 345 \\ \hline \end{array}$$

$$\begin{array}{r} 762 \\ + 236 \\ \hline \end{array}$$

$$\begin{array}{r} 183 \\ + 434 \\ \hline \end{array}$$

$$\begin{array}{r} 756 \\ + 53 \\ \hline \end{array}$$

$$\begin{array}{r} 363 \\ + 507 \\ \hline \end{array}$$

$$\begin{array}{r} 205 \\ + \square \\ \hline 848 \end{array}$$

$$\begin{array}{r} 664 \\ - 330 \\ \hline \end{array}$$

$$\begin{array}{r} 505 \\ - 304 \\ \hline \end{array}$$

$$\begin{array}{r} 317 \\ - 209 \\ \hline \end{array}$$

$$\begin{array}{r} 654 \\ - 136 \\ \hline \end{array}$$

$$\begin{array}{r} 967 \\ - \square \\ \hline 929 \end{array}$$

597	579	998	522	518	809	310	870
G	M	R	E	A	V	Z	L
643	112	334	201	108	83	617	38
J	O	I	N	Č	H	A	R





Spodaj so napisani računi množenja in deljenja. Pobarvaj polja s
pravilnimi rezultati. Ugotovil boš, kateri plazilec lahko spreminja barve
svojega telesa.

$2 \cdot 5 = \underline{\quad}$

$63 : 7 = \underline{\quad}$

$8 \cdot 7 = \underline{\quad}$

$24 : 3 = \underline{\quad}$

$6 \cdot 6 = \underline{\quad}$

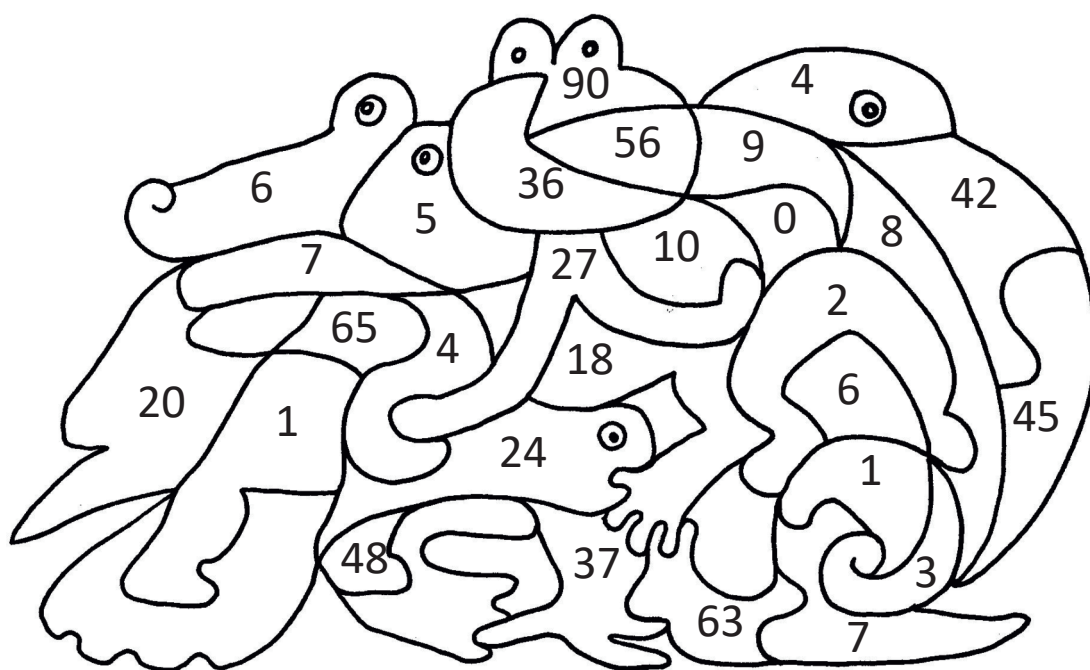
$15 : 5 = \underline{\quad}$

$9 \cdot 3 = \underline{\quad}$

$12 : 6 = \underline{\quad}$


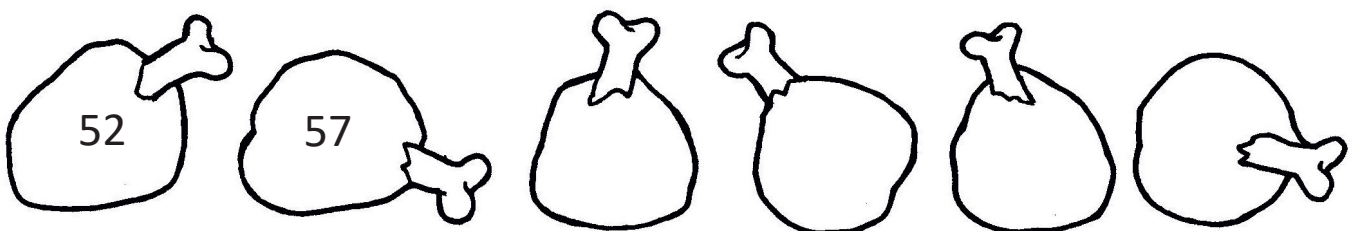




$4 \cdot 0 = \underline{\quad}$

$45 : 9 = \underline{\quad}$





Živali jedo različne vrste hrane. Nekatere jedo meso, druge oreščke, tretje liste in tako naprej ...
Nadaljuj zaporedja, ki so zapisana na hrani.






- A V družini Novak živijo oče, mami in trije otroci. Čez vikend so se odpravili v živalski vrt. Vstopnica za odrasle stane 8 €, za otroke pa 3 €. Koliko je družina Novak plačala za vstopnice?

Račun: _____


Odgovor: _____



- B V živalskem vrtu so opazovali naslednje živali: enega slona, dve žirafi, tri zebre, kačo in kakaduja. Koliko nog so našteli?

Račun: _____


Odgovor: _____



- C Opazovali so tudi hranjenje živali. Izvedeli so, da tiger v enem tednu poje 55 kg hrane, lev pa v enem tednu poje 35 kg hrane. Ali več hrane pojesta dva tigrina ali trije levi?

Račun: _____

Odgovor: _____



- Č V živalskem vrtu družina Novak ni bila sama. V soboto je živalski vrt obiskalo 351 obiskovalcev, v nedeljo pa 161 obiskovalcev več kot v soboto. Koliko obiskovalcev je obiskalo živalski vrt čez vikend?

Račun: _____

Odgovor: _____

