

Ime in priimek:

Število točk:



1 Izračunaj račune. Pobarvaj polja s pravilnimi rezultati. Dobil boš največjo žival na svetu.

$$\begin{array}{r} 213 \\ + 524 \\ \hline \end{array}$$

$$\begin{array}{r} 567 \\ + \boxed{} \\ \hline 990 \end{array}$$

$$\begin{array}{r} 750 \\ - 362 \\ \hline \end{array}$$

$$\begin{array}{r} 828 \\ - 375 \\ \hline \end{array}$$

$5 \cdot 8 = \underline{\quad}$

$7 \cdot X = 56$

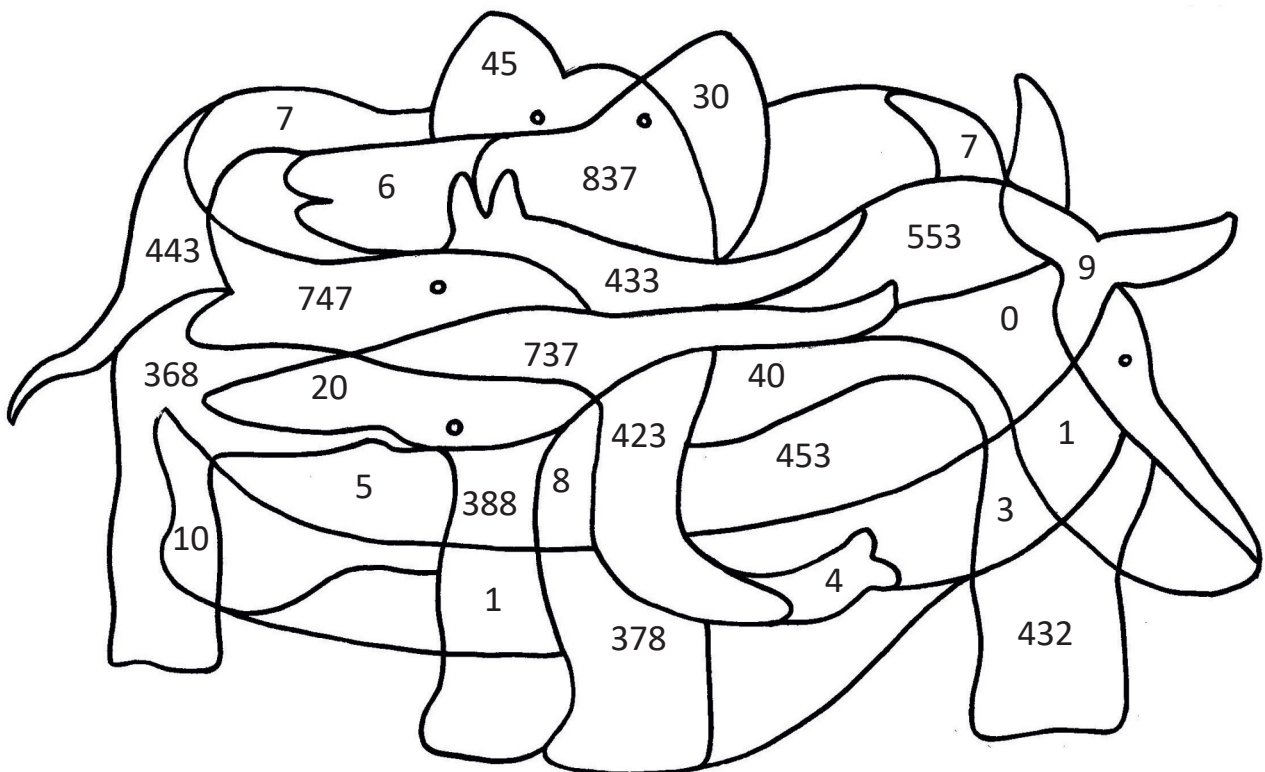
$4 \cdot \boxed{} = 0$

$X = \underline{\quad}$

$36 : 4 = \underline{\quad}$


$\boxed{} : 2 = 10$

$45 : 9 = \underline{\quad}$





2 Volčji mladiči iščejo pot do svoje mamice. Pomagaj jim poiskati pravo pot.





Pretvori merske enote. Rezultate poišči v tabeli in spodaj ustrezno črko prepisi k ustreznemu rezultatu. Izvedel boš, kako se imenujejo sprednji zobje in nos od slona.

1) 1 cm = _____ mm

2) 5 m = _____ dm

3) 4 dl + ____ dl = 1 l


4) 12 cm + ____ cm = 2 dm

5) pol ure = _____ min

6) 3 kg + 2 kg = _____ dag

7) 15 ur + _____ ur = 1 dan

8) 6 l = _____ dl



Na digitalni uri je zapisano 17:15. Na analogni uri je torej urni kazalec na številki _____, minutni pa na _____.

9)

10)

E 6	C 15	B 60	F 100	T 30	K 50	O 9
A 18	L 8	R 500	O 10	H 1	E 5	N 17

SLONJI SPREDNJI ZOB SE IMENUJE _____
1) _____ 2) _____ 3) _____ 4) _____

NOS PA SE IMENUJE _____
5) _____ 6) _____ 7) _____ 8) _____ 9) _____ 10) _____



Anže je vsak dan obiskal tropsko hišo, kjer je opazoval živali.

V ponedeljek je tam naštel 130 živali.

V torek je naštel 25 živali manj kot v ponedeljek.

V sredo je naštel 75 živali več kot dan prej.

V četrtek je naštel toliko živali kot v torek in sredo skupaj.

V petek je naštel 88 živali manj kot v ponedeljek.

V soboto je naštel 33 živali manj kot v četrtek.

V nedeljo je bila tropska hiša zaprta.





Izpolni tabelo, koliko živali je naštel na posamezen dan.

Dan v tednu	PON	TOR	SRE	ČET	PET	SOB	NED
Število živali							



Matija je prebral knjigo o živalih in izvedel kakšno življenjsko dobo dosežejo nekatere vrste. Ugotovil je, da kolibri živi 4 leta. Medved živi petkrat dlje kot kolibri. Šimpanz živi 22 let več kot medved, kunec pa ima življenjsko dobo šestkrat krajšo od šimpanza.

Poveži živali z njihovo življenjsko dobo.



6 let

42 let

20 let

7 let

4 leta

9 let

31 let

