

Ime in priimek:

Število točk:

Spoznaj živali Triglavskega narodnega parka.



Nadaljuj zaporedja. Med števili v zadnjem stolpcu obkroži najmanjše. Izvedel/a boš, koliko mladičkov lahko skoti navadna lisica. Število zapiši na spodnjo črto.

2	4				
---	---	--	--	--	--


23	21				
----	----	--	--	--	--

18	16				
----	----	--	--	--	--

35	30				
----	----	--	--	--	--

1	3				
---	---	--	--	--	--

Navadna lisica lahko skoti tudi ____ mladičev.





Reši račune. Pobarvaj polja s pravilnimi rezultati. Ugotovil/a boš, kako izgleda alpski rastlinojdec, ki zimo prespi.

$$\square + 6 = 43$$

$$61 + 25 = \underline{\quad}$$

$$34 + 47 = \underline{\quad}$$

$$77 - 35 = \underline{\quad}$$

$$49 - 19 = \underline{\quad}$$

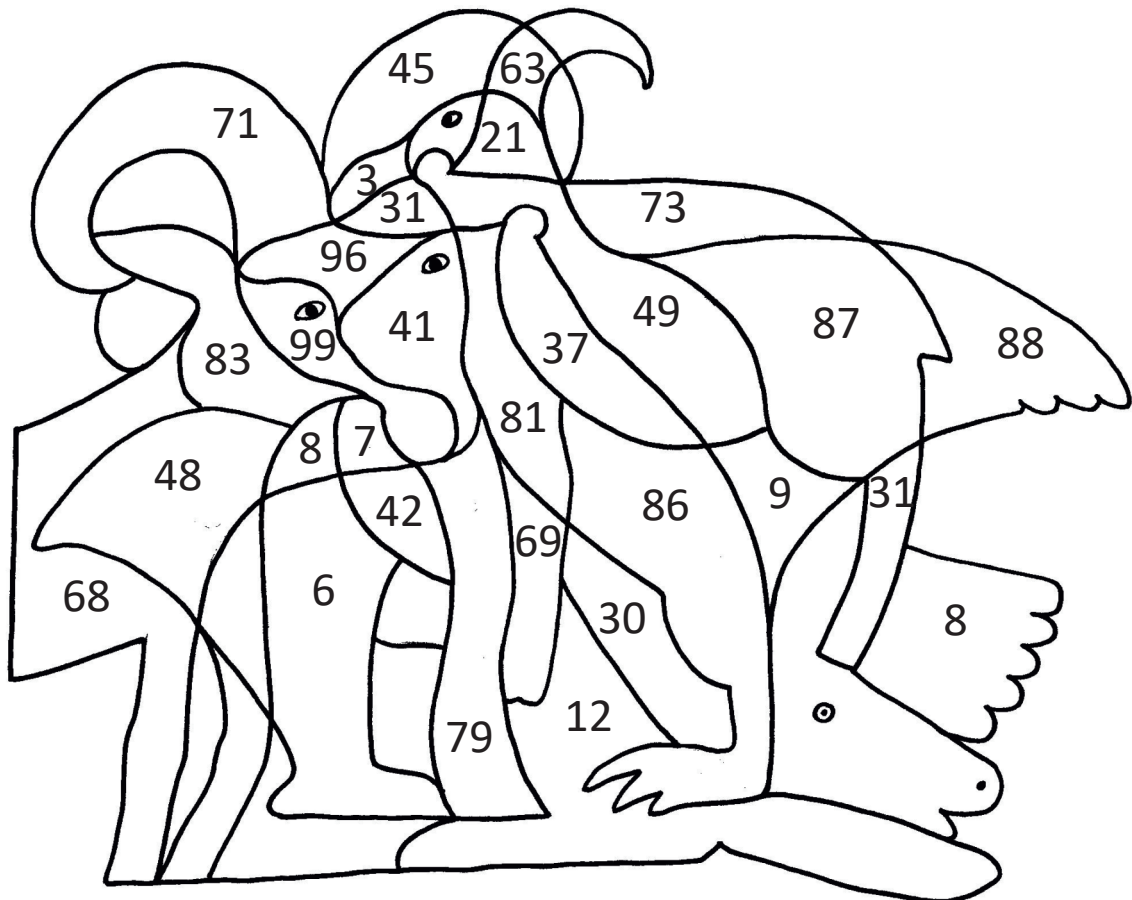
$$47 - \square = 40$$

$$96 - \square = 27$$

$$\square - 8 = 71$$

$$38 + \square = 50$$

$$9 + \square = 50$$





Reši račune. Pobarvaj stezico s pravilnimi rezultati. Prispel/a boš do živalice, po kateri se imenuje tudi ozvezdje na severni polobli.

$6 \cdot 2 = \underline{\quad}$

$5 \cdot 4 = \underline{\quad}$

$2 \cdot 5 = \underline{\quad}$



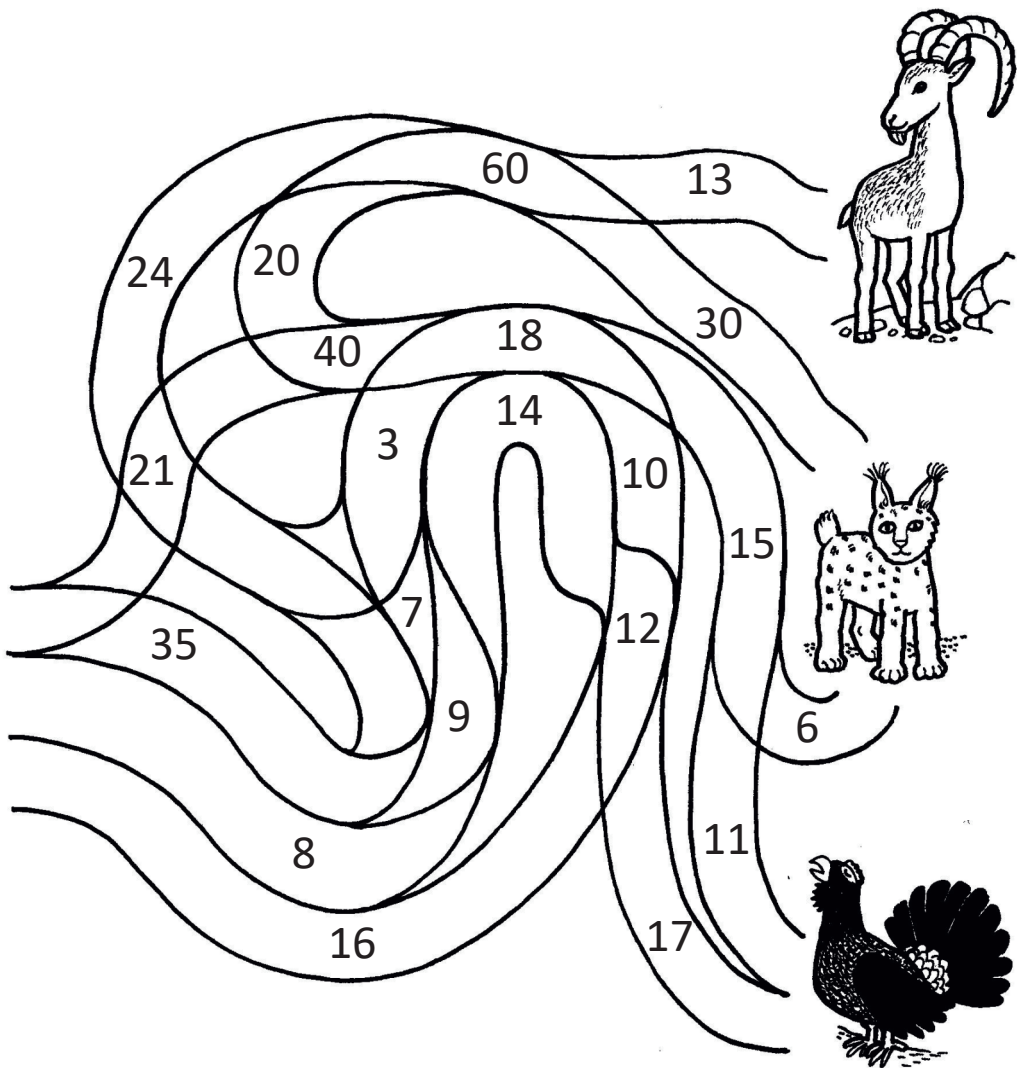
$6 \cdot 10 = \underline{\quad}$

$9 \cdot 2 = \underline{\quad}$

$4 \cdot 4 = \underline{\quad}$

$8 \cdot 5 = \underline{\quad}$

$3 \cdot 10 = \underline{\quad}$





Reši besedilne naloge.

- A V starem gozdu živita dve črni žolni. Prva meri 42 centimetrov, druga pa je 8 centimetrov manjša od nje.
Koliko centimetrov meri druga žolna?

Račun: _____

Odgovor: _____



- B Navadni jeleni so v gozdu pojedli 29 kilogramov trave in 15 kilogramov drevesnih poganjkov. Na travniku pa so pojedli 39 kilogramov trave.
Koliko kilogramov trave so pojedli v gozdu in na travniku skupaj?

Račun: _____


Odgovor: _____



- C Planinski pupek je dvoživka, ima štiri nožice. Koliko nožic teče preko Planine pri Jezeru, če tam živi osem planinskih pupkov?

Račun: _____

Odgovor: _____



- Č Rjavi medved Marko je živel 15 let, rjavi medved Mirko pa 17 let več.
Koliko let je živel rjavi medved Mirko?

Račun: _____

Odgovor: _____

