

Ime in priimek:

Število točk:

Spoznaj živali Triglavskega narodnega parka.



V vsaki vrstici prečrtaj 2 števili, ki ne sodita zraven. Prečrtana števila pobarvaj v poljih spodaj. Prikazala se ti bo žival, ki obožuje borovnice, v Sloveniji pa spada med zaščitene vrste.

40, 50, 54, 60, 63, 70, 80


16, 20, 22, 24, 26, 28, 32

15, 20, 23, 25, 29, 30, 35

11, 12, 13, 14, 16, 18, 20

3, 6, 7, 9, 12, 15, 17

25, 30, 33, 35, 37, 40, 45





Reši račune. Črke pod pravilnimi rezultati po vrsti prepisi na spodnjo črto. Dobil/a boš ime živali, katere mladiči se skotijo brez vonja.

1) · 3 = 24

2) 85 - 45 = _____

3) + 39 = 99

4) · 5 = 45

5) 87 + 12 = _____

6) 100 - = 52

7) 27 + = 72

8) - 15 = 65

9) 37 + 33 = _____

10) 44 + 17 = _____

11) 53 + 37 = _____

12) 12 + = 58


→ Prepisuj v tej smeri.

7	8	40	120	7	60	9	75	99	48
V	P	O	D	G	L	J	A	S	K

45	80	152	64	70	4	61	51	90	46
I	Z	N	J	A	Z	J	B	E	C

Iskana žival je

_____.





Spremeni mere. Pravilne rezultate po vrsti poveži in priplezal/a boš do naše največje ujede.

1) 1 teden = _____ dni

2) 2 dm = _____ cm

3) 100 centov = _____ €

4) 3 m = _____ dm

5) 48 ur = _____ dni

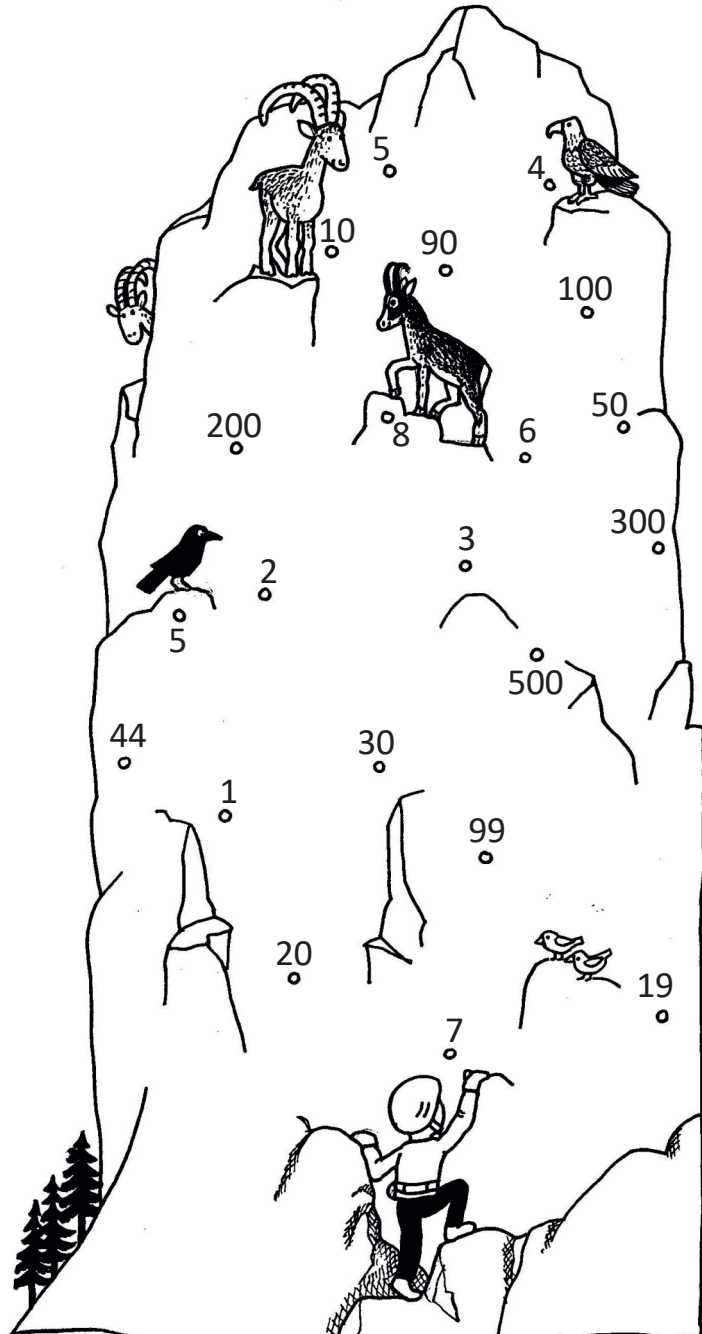
6) 21 dni = _____ tednov

7) 5 dm = _____ cm

8) 1 € = _____ centov

9) 9 m = _____ dm

10) 40 cm = _____ dm






Evrazijski ris ima na vsaki taci 4 prste. Koliko prstov imajo 3 evrazijski risi skupaj?

A

Račun: _____

Odgovor: _____




B

Ribiči so ujeli 8 soških postrvi; tehtale so 12 kg, 25 kg, 22 kg, 18 kg, 9 kg, 15 kg, 23 kg in 19 kg.

Koliko so tehtale najtežje tri postrvi skupaj?

Račun: _____

Odgovor: _____



C

Samica ruševca je valila jajca 26 dni; ali je to več, manj ali enako 3 tednom? Zakaj?

Odgovor: _____



Č

V skritih brlogih so se skotili volčji mladiči. Prva volkulja je skotila 8 mladičev, druga pa 3 mladiče manj. Tretja volkulja je skotila 1 mladiča manj kot druga.

Koliko mladičev imata druga in tretja volkulja skupaj?

Račun: _____

Odgovor: _____

