

Ime in priimek:

Število točk:



Nadaljuj zaporedje v peščenih urah. V vsaki vrsti poišči največje število in ga vpiši v prazen kvadrat. Vseh 5 največjih števil poišči v tabeli spodaj. Črke nad pravilnimi rezultati pobarvaj. Izvedel boš, kaj se pretaka v peščeni uri.

20	22								
60	55								
74	72								
68	70								
23	26								

U	P	R	V	O	E	D	S	A	E	K
31	34	3	47	61	60	75	74	28	82	44

V peščeni uri se pretaka _____.



Reši račune. Pobarvaj polja s pravilnimi rezultati. Če si pravilno izračunal in pobarval, se bo prikazala priprava za merjenje časa.

$68 - 3 = \underline{\quad}$

$9 + 7 = \underline{\quad}$

$12 - 6 = \underline{\quad}$

$59 - 3 = \underline{\quad}$

$41 + 7 = \underline{\quad}$

$70 - 7 = \underline{\quad}$

$22 + 6 = \underline{\quad}$

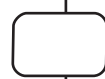
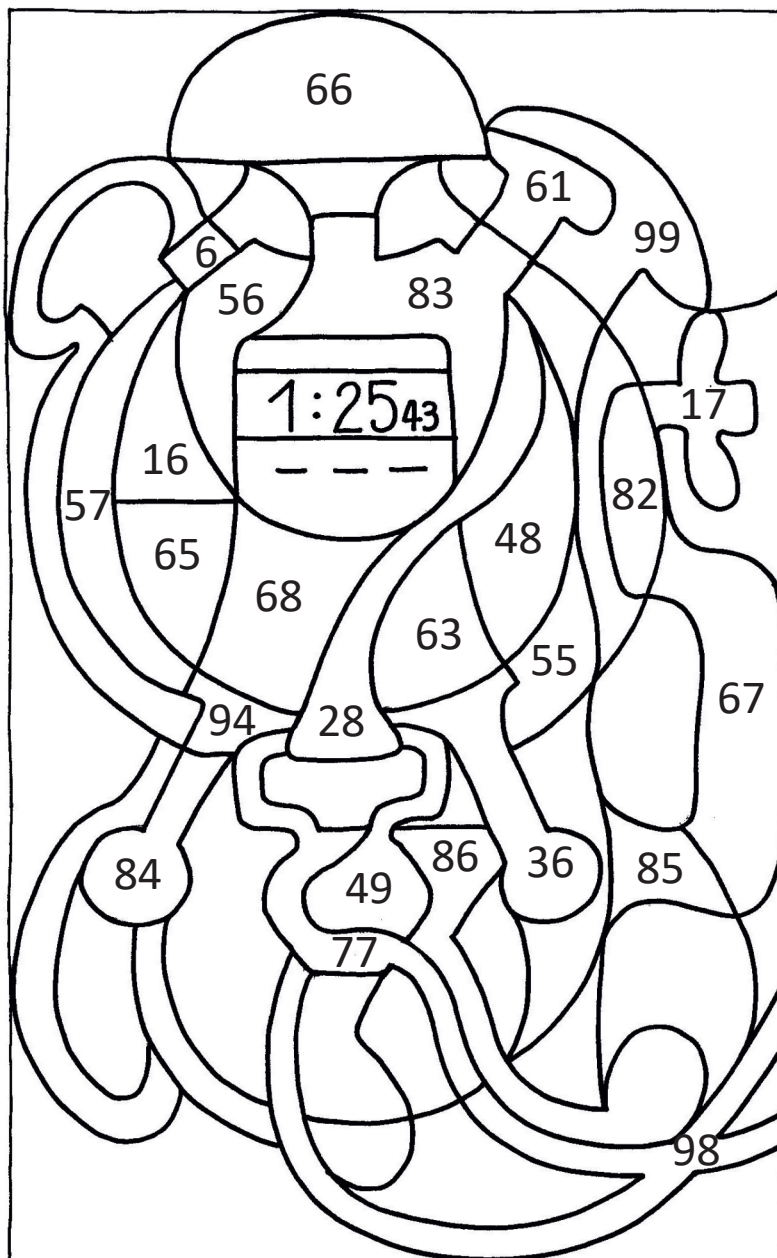
$90 - 7 = \underline{\quad}$

$44 + 5 = \underline{\quad}$

$71 + 6 = \underline{\quad}$

$70 - 2 = \underline{\quad}$

$91 + 7 = \underline{\quad}$





Izračunaj račune. S črto poveži števila po vrsti tako, kot si sledijo rezultati računov. Začni pri *.

$$52 + \square = 55$$

$$64 - \square = 60$$

$$80 - \square = 70$$

$$\square - 9 = 7$$

$$79 - \square = 71$$

$$\square - 25 = 2$$

$$89 - \square = 84$$

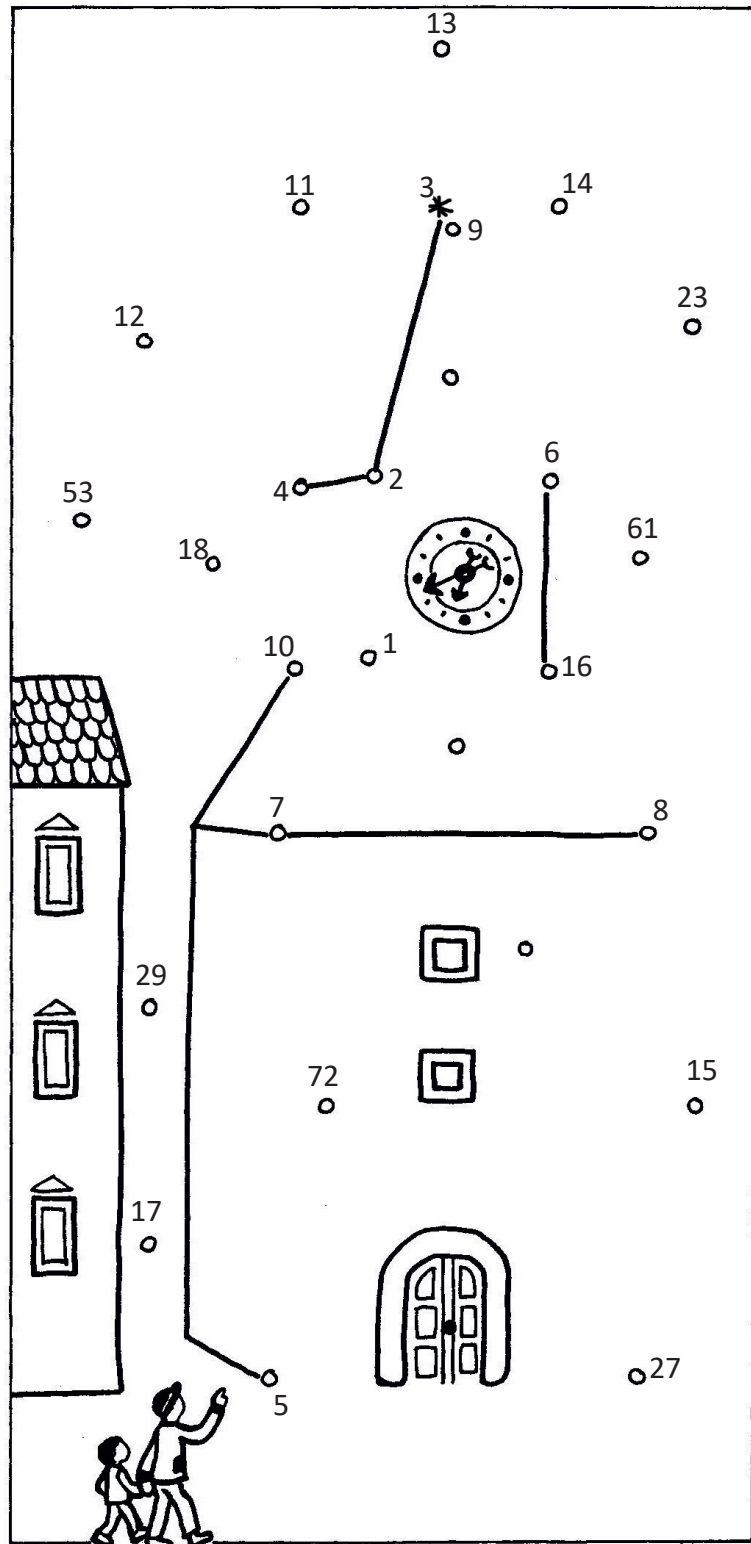
$$92 + \square = 99$$

$$48 - \square = 47$$

$$\square + 48 = 50$$

$$\square + 62 = 68$$

$$100 - \square = 91$$





Reši naloge.

- A Manca je stara 10 let. Njena mama je 25 let starejša, babica pa 50 let starejša. Koliko je stara babica?

Račun: _____

Odgovor: _____



- B Jure je bil hudo bolan. Imel je pljučnico. Doma je ostal 2 tedna in 3 dni. Koliko dni je bil bolan?

Račun: _____

Odgovor: _____



- C Mati in oče sta oba 30 let starejša od sina Nika. Koliko sta stara mati in oče, če je Nik star 7 let?

Račun: _____

Odgovor: _____

- D Teta Bina je za 58. rojstni dan dobila torto. Ko je prvič pihnila, je ugasnilo 8 svečk, drugič je upihnila 10 svečk. Koliko svečk še gori?

Račun: _____

Odgovor: _____

