

Ime in priimek:

Število točk:

Na spletni strani ljubljanskega živalskega vrta se nahaja aplikacija ZOOMeter, s pomočjo katere lahko spoznaš čudovite živalice sveta. Nekaj zanimivosti pa najdeš tudi v naslednjih nalogah.



Reši račune. Pobarvaj polja s pravilnimi rezultati. Ugotovil/a boš, kako izgleda kapibara, največji glodalec na svetu.

$$\square + 9 = 22$$

$$54 + 17 = \underline{\quad}$$

$$46 + 29 = \underline{\quad}$$

$$35 - 26 = \underline{\quad}$$

$$87 - 27 = \underline{\quad}$$

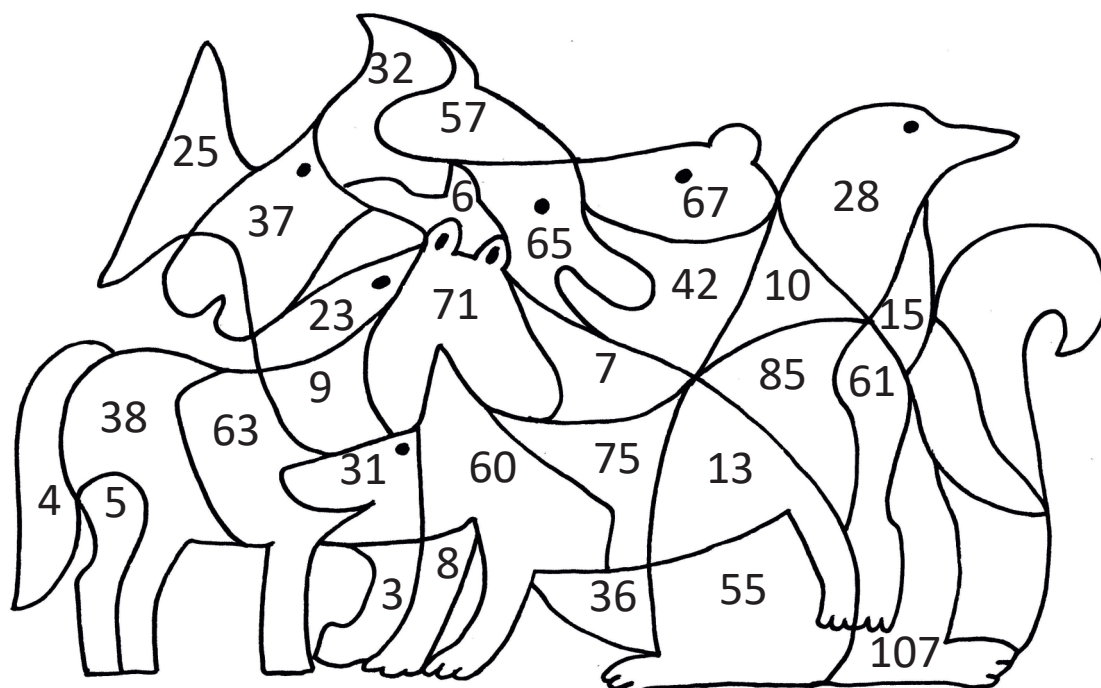
$$57 - \square = 50$$

$$25 - \square = 17$$

$$\square - 4 = 32$$

$$15 + \square = 70$$

$$7 + \square = 30$$





Reši račune. Črke pod pravilnimi rezultati po vrsti prepisi na spodnjo črto.  
Izvedel/a boš, katero vrsto sove so leta 1995 opazili tudi v Sloveniji.

$6 \cdot 5 = \underline{\quad}$

$6 \cdot 4 = \underline{\quad}$

$8 \cdot 2 = \underline{\quad}$

$9 \cdot 2 = \underline{\quad}$

$8 \cdot 4 = \underline{\quad}$

$6 \cdot 10 = \underline{\quad}$

$3 \cdot 5 = \underline{\quad}$


Prepisuj v tej smeri.



11	14	30	15	12	42	24	60
V	E	B	R	U	H	A	D

8	16	10	32	25	21	18	27
Č	A	S	T	K	C	O	N

V Trnovskem gozdu so leta 1995 opazili \_\_\_\_\_ sovo.






3 Nadaljuj zaporedja. Vsa števila, ki jih zapišeš, pobarvaj v spodnjem živalskem vrtu, kjer najdeš v Sloveniji živeče živali.

85, 87, \_\_\_\_\_, \_\_\_\_\_, \_\_\_\_\_, \_\_\_\_\_

46, 49, \_\_\_\_\_, \_\_\_\_\_, \_\_\_\_\_, \_\_\_\_\_

50, 45, \_\_\_\_\_, \_\_\_\_\_, \_\_\_\_\_, \_\_\_\_\_

77, 74, \_\_\_\_\_, \_\_\_\_\_, \_\_\_\_\_, \_\_\_\_\_





A Samec črne čopičarke svoje mladiče prenaša na hrbtu. Prvi samec je nosil mladiče 62 dni, drugi samec pa 6 dni več kot prvi. Koliko dni je mladiče nosil drugi samec črne čopičarke?

Račun: \_\_\_\_\_


Odgovor: \_\_\_\_\_



B Samica emuja znese temno zelena jajca. Prva samica je znesla 15 jajc, druga pa 8 jajc manj kot prva. Koliko jajc je znesla druga samica emuja?

Račun: \_\_\_\_\_


Odgovor: \_\_\_\_\_



C Sekulje pozimi otrpnejo, če pa je le preveč mrzlo, lahko tudi poginejo. Jeseni se je v zavetje skrilo 54 sekulj, zimo jih je preživel 48. Koliko žabic je poginilo?

Račun: \_\_\_\_\_

Odgovor: \_\_\_\_\_



Č Surikate so sesalci, ki jim temnejša dlaka okrog oči služi kot zaščita pred sončno svetlobo. Koliko oči bi bilo uprtih vate, če bi srečal/a 7 surikat?

Račun: \_\_\_\_\_

Odgovor: \_\_\_\_\_

