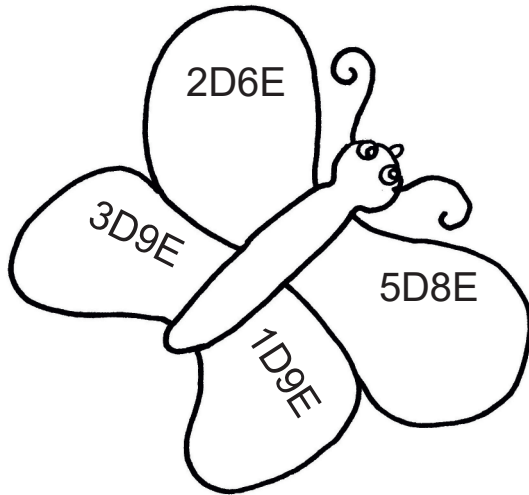


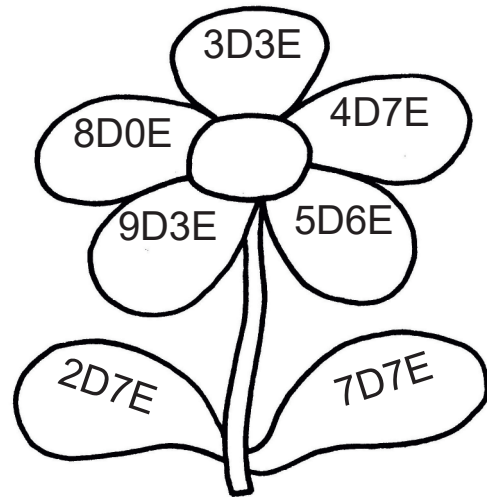
Ime in priimek:

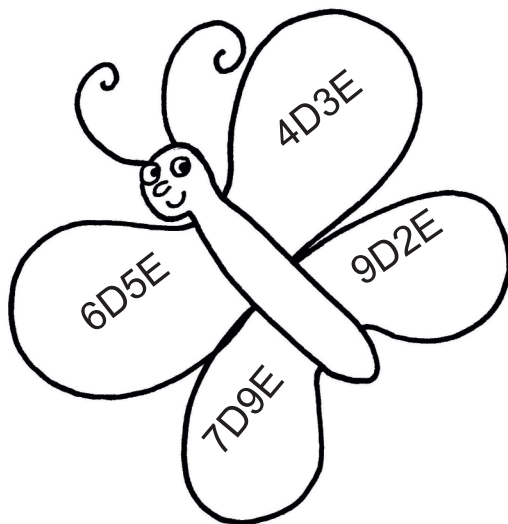
Število točk:

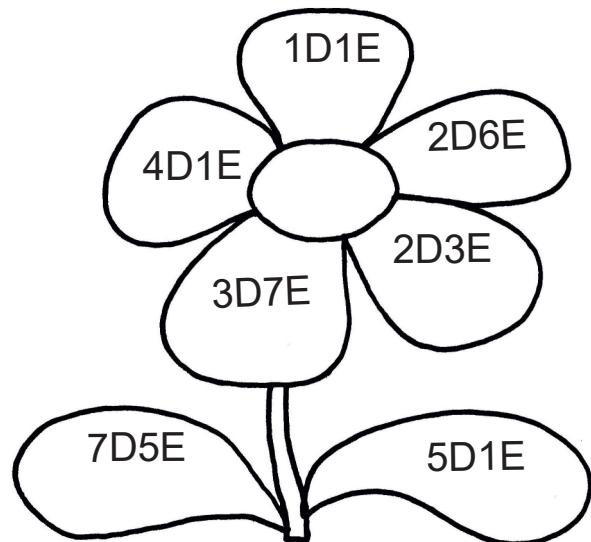


Iz desetic in enic sestavi števila in jih vpiši na prvo črto pod metulje in rože. Na drugo črto zapiši urejena števila od najmanjšega do največjega.











Če boš pravilno izračunal in vpisal črke v prazna okenca ob računih, boš dobil imeni dveh pastirjev. Rezultatom poišči črke v tabeli spodaj.

$31 + 6 = \underline{\quad\quad} \quad \square$

$79 - 6 = \underline{\quad\quad} \quad \square$

$28 - 3 = \underline{\quad\quad} \quad \square$

$56 - 4 = \underline{\quad\quad} \quad \square$

$39 - 7 = \underline{\quad\quad} \quad \square$

$21 + 7 = \underline{\quad\quad} \quad \square$

$50 - 6 = \underline{\quad\quad} \quad \square$

$80 + 2 = \underline{\quad\quad} \quad \square$

$9 + 8 = \underline{\quad\quad} \quad \square$

$93 + 3 = \underline{\quad\quad} \quad \square$



32	17	96	52	25	28	82	44	37	73
K	C	E	O	E	Ž	L	E	K	R





Reši račune. Pobarvaj polja s pravilnimi rezultati. Dobil boš sliko živali na planini.

$$68 - \square = 65$$

$$42 + \square = 47$$

$$37 + \square = 39$$

$$\square - 2 = 63$$

$$\square - 2 = 25$$

$$\square + 36 = 40$$

$$\square - 3 = 83$$


$$\square - 1 = 21$$

$$\square + 41 = 48$$

$$69 - \square = 60$$

$$59 - \square = 51$$

$$\square + 71 = 77$$





Reši naloge. Na pripomočkih pastirjev so napisani rezultati. Obkroži vse rezultate, ki so pravilni.

- A Pastir Franci je na planini pasel 46 ovc, 3 krave in kozo Loti. Koliko živali je bilo na planini?

Račun: _____



- B Teta Pehta je znana nabiralka zelišč. Nabrala je 9 avrikljev in 8 materinih dušic. Nabrala je tudi nekaj listov mete. Koliko mete je nabrala, če je bilo vseh cvetic 20?

Račun: _____



- C Bedanec je imel 56 lisičjih kož. Pri pregledu kož je ugotovil, da je 5 kož poškodovanih in ne bodo za prodajo. Koliko kož je nesel v mesto naprodaj?

Račun: _____

