

Ime in priimek: _____

Šola: _____

Število točk: 

Reši račune. Pobarvaj črke pod pravilnimi rezultati. Črke po vrsti prepisi na črto. Pokazalo se ti bo ime slovenske pokrajine.

$$\begin{array}{r} 698 \\ + 3256 \\ + 3693 \\ \hline \end{array}$$

$$\begin{array}{r} 2905 \\ + 4163 \\ \hline \end{array}$$

$$\begin{array}{r} 4977 \\ + 2943 \\ \hline \end{array}$$

$$\begin{array}{r} 9765 \\ - 3894 \\ \hline \end{array}$$

$$\begin{array}{r} 9838 \\ - 8767 \\ \hline \end{array}$$

$$\begin{array}{r} 5015 \\ + 969 \\ \hline \end{array}$$

$$\begin{array}{r} 5247 \\ + 4583 \\ \hline \end{array}$$

$$\begin{array}{r} 10000 \\ - 3952 \\ \hline \end{array}$$

$$\begin{array}{r} 4312 \\ - 181 \\ \hline \end{array}$$

7647 G	6774 S	5871 O
7158 F	9830 R	7068 E
9831 I	1071 N	7168 V
6048 J	7048 M	2079 D
7920 Š	1701 C	9548 P
5984 K	1314 T	4131 A

REŠITEV: _____



Reši račune. V sliki pobarvaj polja s pravilnimi rezultati. Če si pravilno izračunal in pobarval, boš videl »atrakcijo«, pod katero se vsako leto marca zbere veliko ljudi.

$$\underline{372 \cdot 7}$$

$$\underline{149 \cdot 9}$$

$$400 : 50 = \underline{\quad}$$

$$320 : 8 = \underline{\quad}$$

$$\underline{804 \cdot 5}$$

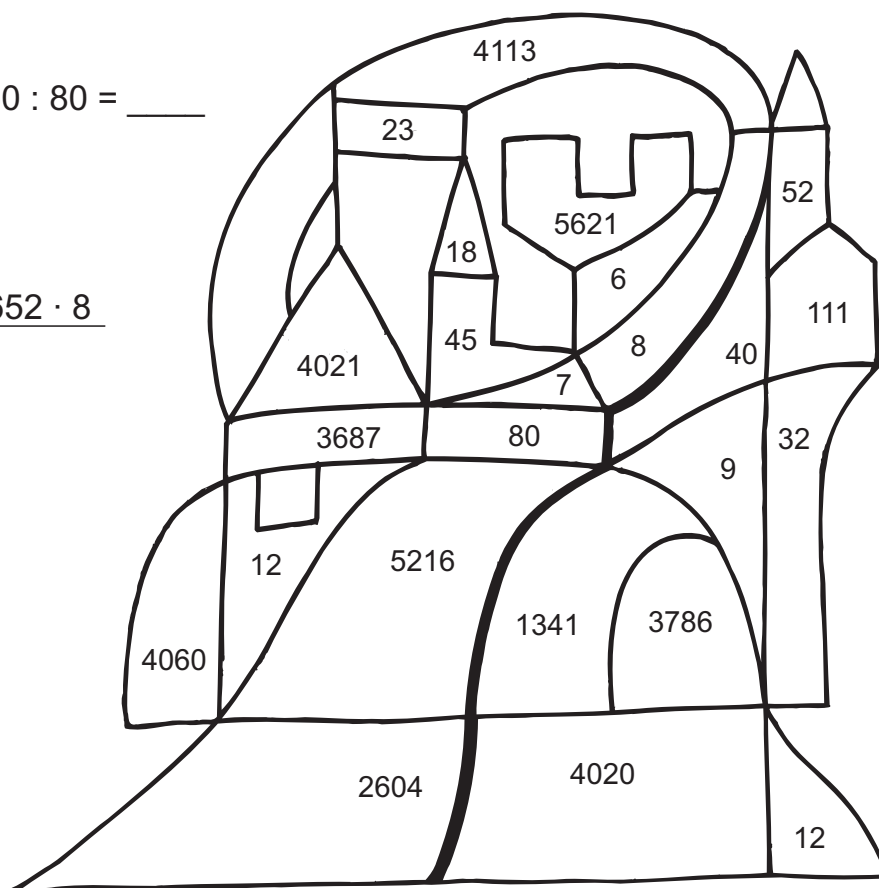
$$560 : 80 = \underline{\quad}$$

$$\underline{631 \cdot 6}$$

$$\underline{652 \cdot 8}$$

$$810 : 90 = \underline{\quad}$$


$$640 : 8 = \underline{\quad}$$





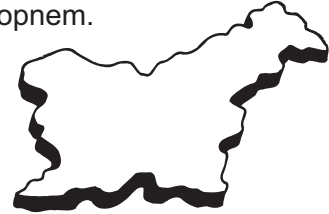
Besedilne naloge:

- a. Avstrijska ekipa ima 42 dresov. Peljejo jih v 6 kombijih, v vsakem kombiju je enako število dresov. Koliko dresov peljejo v enem kombiju?




Račun: _____

- b. Planica leži blizu slovenske meje z Avstrijo in Italijo. Slovenija meji z Italijo po kopnem 172 km in 30 km po morju, z Avstrijo pa 245 km po kopnem. Koliko kilometrov meri meja z obema državama?



Račun: _____

- c. Na ogled tekme je prišlo 153 avtobusov. Vsak avtobus sprejme 52 potnikov. Koliko potnikov je bilo v teh avtobusih?



Račun: _____

- d. Oče je sina Miha peljal na ogled tekme. Oče je za svojo karto plačal 2200 SIT, za sina pa 1700 SIT. Plačal je z bankovcem za 5000 SIT. Koliko denarja mu je vrnila blagajničarka?



Račun: _____



Skakalci Primož, Robert in Urban so zasedli prva tri mesta. Primož ni bil tretji, vendar je prehitel Urbana. Robert je prehitel Primoža. Pod tekmovalce napiši njihova mesta.

