


Ime in priimek:


Število točk:

1 En mladiček v vsaki koloni ne spada k svoji družini. Prečrtaj ga.



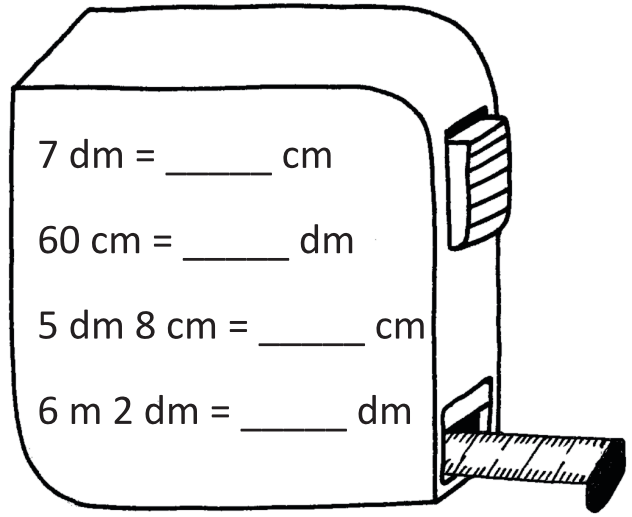
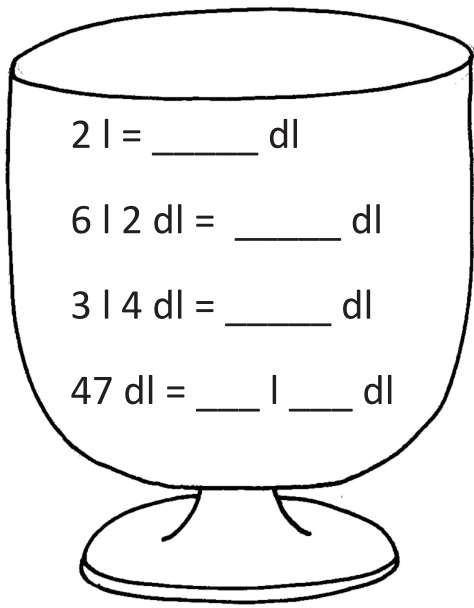
2 Reši račune. Rezultate po vrsti poveži s črto. Račune rešuj po vrsti. Dobil boš sliko znane domače živali.

- | | | | | | | | | | | | | | |
|---|-------------------------------|---|--------------------|----|--------|----|--------------------|----|--------------------|----|--------------------|----|--------------------|
| 1 | $51 + 46 = \underline{\quad}$ | 9 | 73 | 10 | 17 | 11 | 74 | 12 | 33 | 13 | 57 | 14 | 66 |
| 2 | $35 + 28 = \underline{\quad}$ | | $\underline{- 32}$ | | $+ 29$ | | $\underline{- 46}$ | | $\underline{+ 59}$ | | $\underline{- 39}$ | | $\underline{+ 19}$ |
| 3 | $96 - 63 = \underline{\quad}$ | | | | | | | | | | | | |
| 4 | $51 - 19 = \underline{\quad}$ | | | | | | | | | | | | |
| 5 | $19 + 57 = \underline{\quad}$ | | | | | | | | | | | | |
| 6 | $90 - 46 = \underline{\quad}$ | | | | | | | | | | | | |
| 7 | $43 + 36 = \underline{\quad}$ | | | | | | | | | | | | |
| 8 | $87 - 34 = \underline{\quad}$ | | | | | | | | | | | | |



3

Pretvori merske enote.



4

Izračunaj naloge. Rezultatom v tabeli poišči črke in jih pobarvaj. Če boš pravilno izračunal in pobarval črke, boš dobil ime neke domače živali.

A V hlevu so 4 kokoši, 3 krave, 5 prašičev in 2 konja. Koliko nog imajo vse živali skupaj?

Račun: _____




Rezultati



B Peter je pomagal stricu pasti živino. Zjutraj sta prevzela in gnala v planino 36 ovac, 18 koz in 14 krav. Koliko je bilo vseh živali?

Račun: _____



C Mojca ima 9 piščancev, Maja pa trikrat več. Koliko jih imata skupaj?

Račun: _____



Č Kmet je v posodo za 36 litrov nalil mleko 2 krav. Koliko je v posodi še prostora, če je prva krava dala 11 litrov, druga pa 12 litrov mleka?

Račun: _____



S	K	V	O	N	Z	J	A
84	48	49	68	86	36	63	13