

Ime in priimek:

Število točk:

1 Izračunaj račune. Rezultate poišči v sliki in polja pobarvaj.

$$\begin{array}{r} 37 \\ + 25 \\ \hline \end{array}$$

$$\begin{array}{r} 55 \\ + 32 \\ \hline \end{array}$$

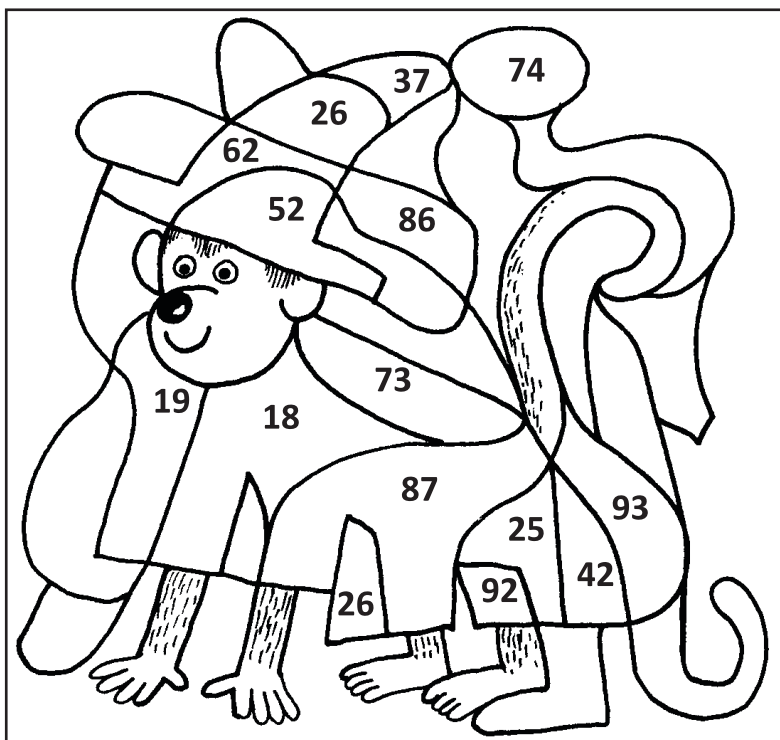
$$\begin{array}{r} 49 \\ - 24 \\ \hline \end{array}$$

$$\begin{array}{r} 56 \\ - 38 \\ \hline \end{array}$$

$$\begin{array}{r} 90 \\ - 38 \\ \hline \end{array}$$

$$\begin{array}{r} 35 \\ + 8 \\ + 49 \\ \hline \end{array}$$

$$\begin{array}{r} 54 \\ + 19 \\ \hline \end{array}$$



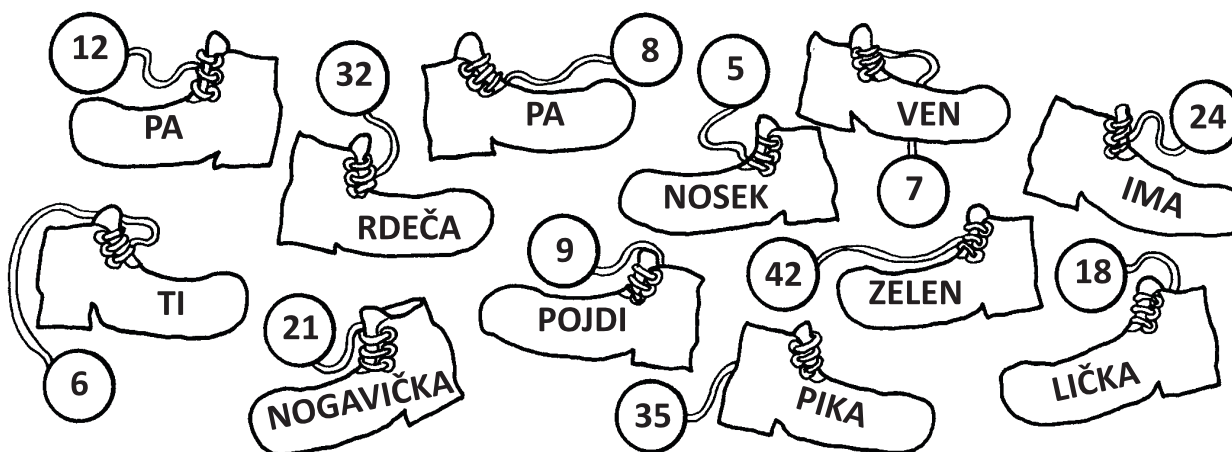
2 Izračunaj. Besede, napisane v čevljih, zapiši pod pravi rezultat. Sestaviš boš izštevanko o znani knjižni junakinji.

Piši in beri v tej smeri →

$7 \cdot 5 = \underline{\quad}$
$8 \cdot 4 = \underline{\quad}$
$4 \cdot 3 = \underline{\quad}$
$\underline{\quad} \cdot 2 = 16$

$7 \cdot 3 = \underline{\quad}$
$9 \cdot 2 = \underline{\quad}$
$7 \cdot 6 = \underline{\quad}$
$\underline{\quad} \cdot 6 = 54$

$4 \cdot 6 = \underline{\quad}$
$\underline{\quad} \cdot 5 = 25$
$\underline{\quad} \cdot 2 = 12$
$\underline{\quad} \cdot 4 = 28$



3

Izračunaj račune v zlatnikih. Rezultate poišči v tabelah spodaj in pobarvaj črke. Dobil boš imena Pikinih prijateljev.

$$67 + 25 =$$

$$13 + 36 =$$

$$73 - 9 =$$

$$19 + 68 =$$

$$89 - 53 =$$

$$43 + 36 =$$

$$84 - 59 =$$

$$83 - 65 =$$

$$35 + 24 =$$

$$96 - 54 =$$


T	I	O	L	E	M	A	N	Ž
42	43	36	63	62	64	79	97	18
A	L	N	I	U	Š	C	K	A
87	88	92	59	58	95	25	52	49

4

Izračunaj besedilne naloge. Rezultate vpiši v okenca.

- A Pika je spretna vrvohodka. Hodila je tudi po ograji. Najprej je prehodila 52 m ograje, nato pa po kratkem premoru še 27 m. Koliko m ograje je prehodila?

Račun: \_\_\_\_\_



Rezultati




- B Pika, Tomaž in Anica so nakupovali. V slaščičarni so kupili 95 čokoladnih cigaret, 78 so jih razdelili drugim otrokom. Koliko čokoladnih cigaret jim je ostalo?

Račun: \_\_\_\_\_




- C Piko sta hotela odpeljati dva policaja. Lovila sta jo okrog hiše. Prvi policaj je naredil 4-krat po 2 kroga okrog hiše, drugi pa 5-krat po 3 kroge. Koliko krogov sta naredila oba policaja skupaj?

Račun: \_\_\_\_\_

